

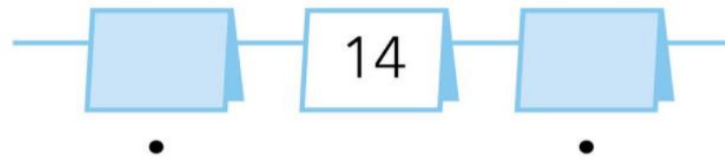
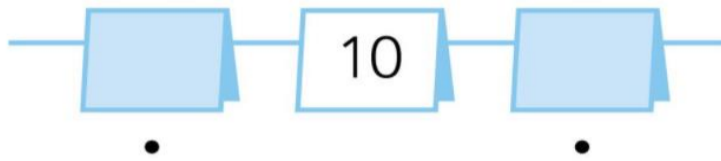


In blok 2 leren we

de volgorde van de getallen t/m 20 kennen
de buurgetallen t/m 20

doel
1

welk getal?



- 12
- 11
- 9
- 8

- 12
- 13
- 16
- 15

hoeveelheden t/m 20 tellen
hoeveelheden t/m 20 met elkaar vergelijken

doel
2

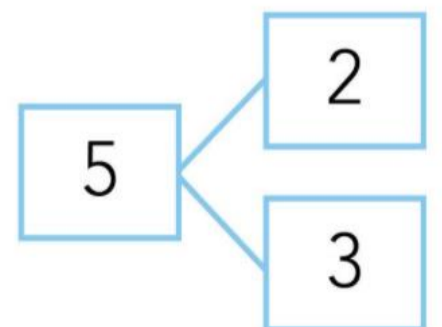
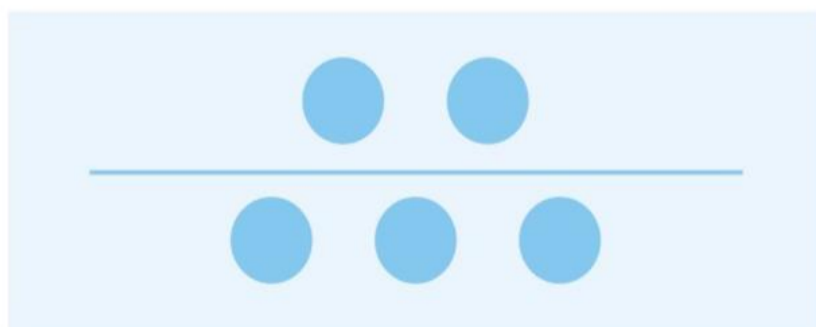
hoeveel?

12 13 14 15 16 17

wat is meer?

welke splitsing van 4, 5, 6 er bij een verhaal hoort
hoe je een splitschema invult

doel
3





de splitsing van 4, 5, 6 kennen zonder te tellen
een verhaal te bedenken en een tekening te maken bij een splitsing



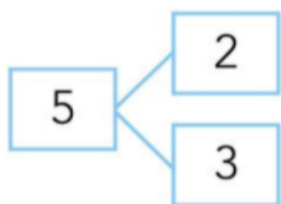
doel
4

4 en 2, zie ik zo.

6

4 2

bedenk een verhaal en teken.



alle blokken in een blokkenbouwsel tellen

doel
5

